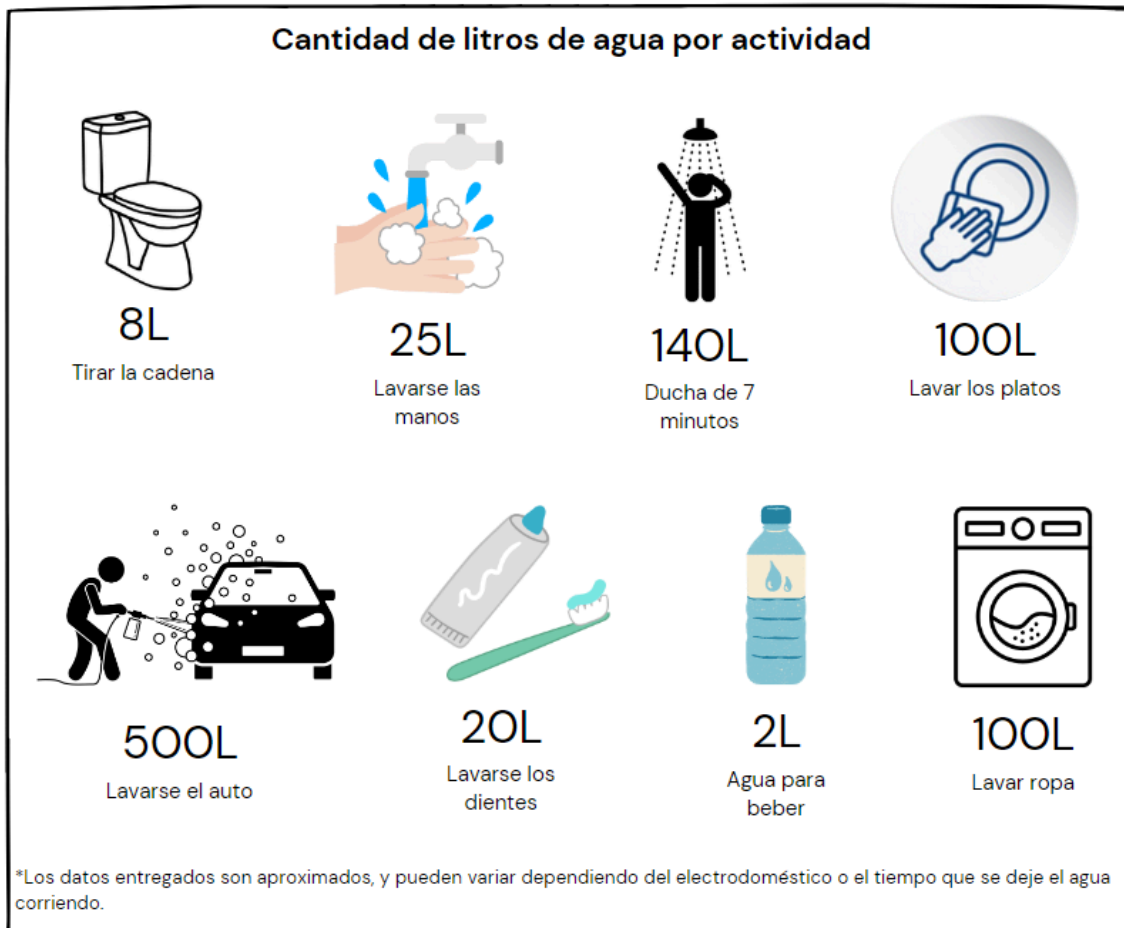


¿Cuánta agua gastamos en actividades diarias de nuestro hogar?

Nombre: _____

Fecha: _____

Observa la siguiente imagen y luego responde las preguntas:



De todas las actividades que aparecen en la imagen, ¿cuál es la que más agua necesita?

De todas las actividades que aparecen en la imagen, ¿cuál es la que menos agua necesita?

¿Qué actividades necesitan la misma cantidad de agua?

Marca con una X la opción que creas correcta.

1 ¿Cuál de las siguientes afirmaciones es verdadera?

"La cantidad de agua que se necesita para...

a) tomarse una ducha de 7 minutos > lavarse las manos".

b) tirar la cadena < agua para beber".

c) lavar los platos = lavar los dientes".

d) lavarse los dientes < lavarse las manos".

2 ¿Qué signo debe ir dentro del círculo para que la afirmación sea correcta?

La cantidad de agua que se necesita para tirar la cadena es



la cantidad de agua que se necesita para tomarse una ducha de 7 minutos.

a) <




b) >





c) =

d) +

3 ¿Cuál de las siguientes opciones muestra las actividades del hogar ordenadas de forma correcta?

a)  >  >  > 

b)  <  <  < 

c)  <  <  < 

d)  >  >  > 